

めあて

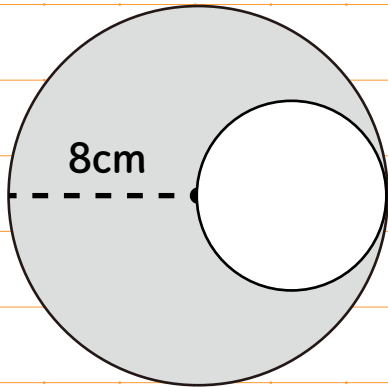
はじめた時間 :

☆円周 = 直径 × 3.14

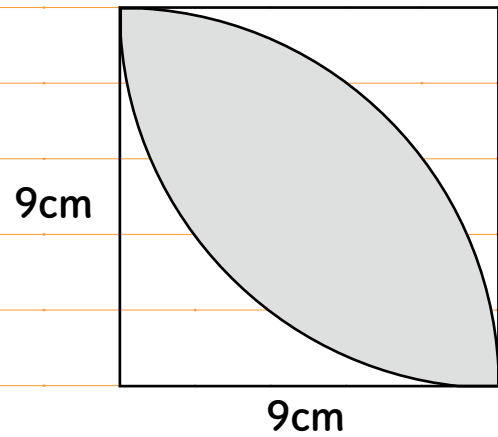
☆円の面積 = 半径 × 半径 × 3.14

問1 以下の図形の色がついた部分の面積を求めましょう。

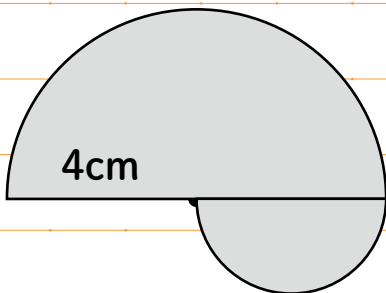
(1)



(2)



(3)



ふりかえり

おえた時間 :