

めあて

はじめた時間 :

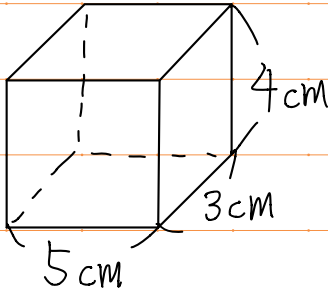
☆ 立体の底面の面積を底面積という。

☆ 立体の体積の公式

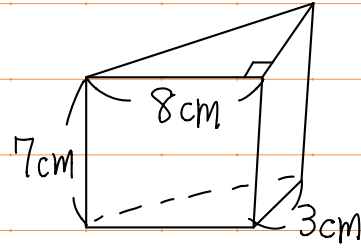
角柱・円柱の体積 = 底面積 × 高さ

① 次の体積を求めましょう。

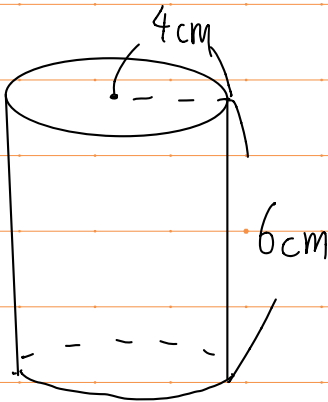
(1)



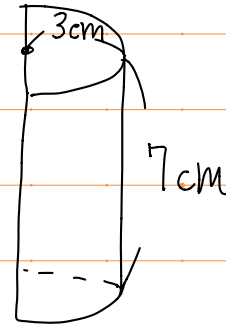
(2)



(3)



(4)



ふりかえり

おえた時間 :