

めあて

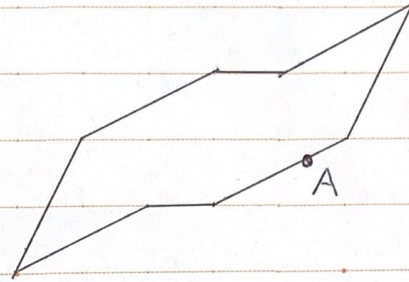
はじめた時間 :

□ 次の問に答えなさい。

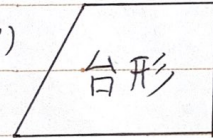
(1) 右の図は点対称な図形です。

① 対称の中心を書きましょう。


② 点Aに対応する点Bを書きましょう。




(2) 右の図のうち、点対称な図形をすべて選びなさい。(ア)



(イ)




(ウ)



(エ)



(オ)



ふりかえり

おえた時間 :