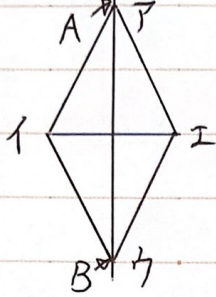


めあて

はじめた時間 :

1 次の問に答えなさい。



(1) 直線 AB を何と言いますか。

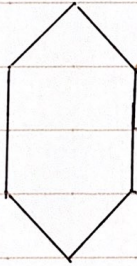
(2) 点 I に対応する点はどこですか。

(3) 辺 EI に対応する辺はどこですか。

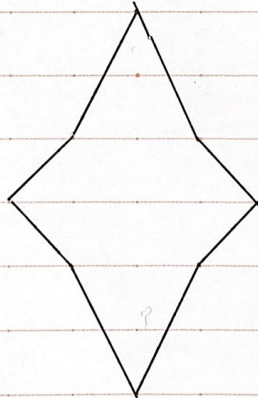
(4) 直線 AB は直線 IE とどのように交わっていますか。

2 下の図はそれぞれ線対称な図形です。対称の軸を全て書きましょう。

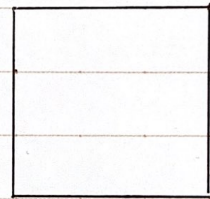
(1)



(2)



(3)



ふりかえり

おえた時間 :