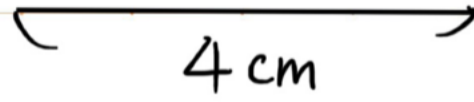


めあて

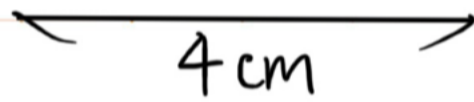
はじめた時間 :

① 次の図形を書きましょう。

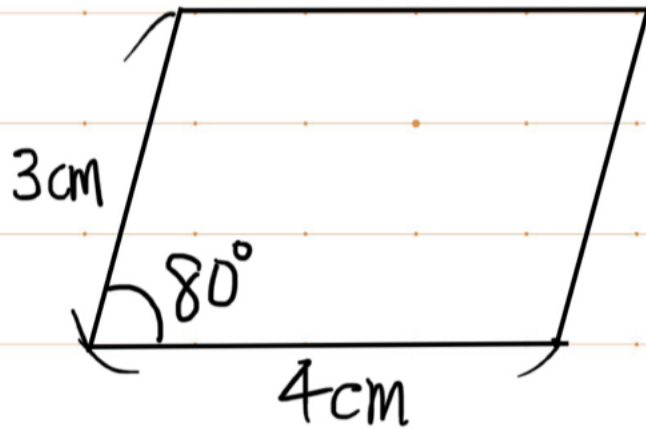
(1) 3つの辺が 4 cm 3 cm 3 cmの三角形



(2) 1つの辺が 4 cm でその両端の角が 30° と 40° の三角形



(3) 平行四辺形



ふりかえり

おえた時間 :