

めあて

はじめた時間

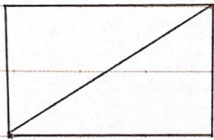
(1) 空らんをうめなさい。

ぴったりと重ね合わせることでできる2つの図形は  
 \_\_\_\_\_ であるというという。

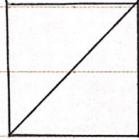
\*うら返したり、回転して重ね合わせることで重なる  
 ものも含む

(2) 以下の図形で1本の対角線を引いてできる2つの三角形が  
 合同なものを選びなさい。

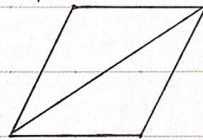
(ア) 長方形



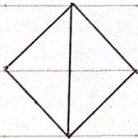
(イ) 正方形



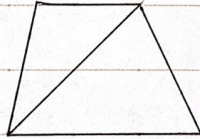
(ウ) 平行四辺形



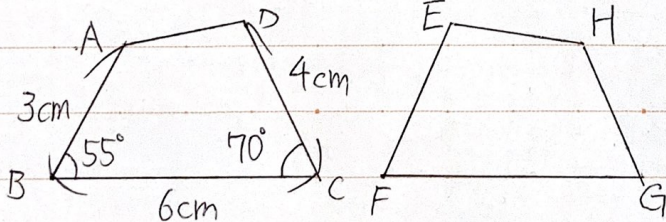
(エ) ひし形



(オ) 台形



(3) 以下の2つの三角形は合同です。



① 頂点Dに対応する点はどこですか。

② 辺CDに対応する辺はどこですか。

③ 辺FGの長さは何cmですか。

④ 角Gの大きさは何度ですか。

ふりかえり

おえた時間