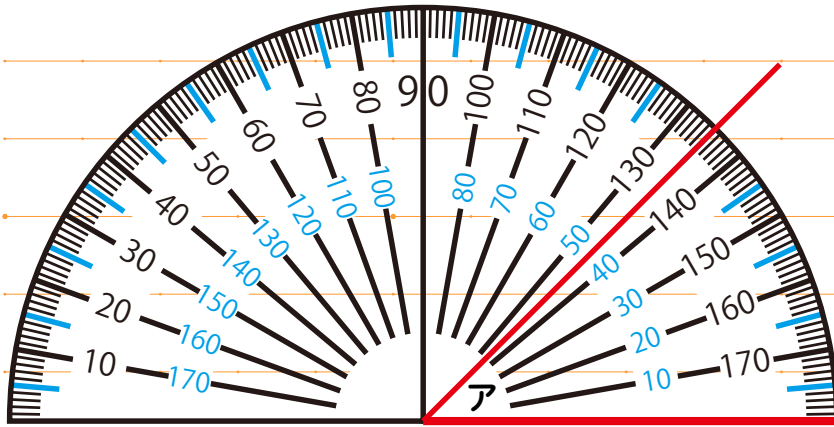


めあて

はじめた時間 :

☆ 分度器は角の大きさを測る道具

☆ 目盛りが2つある。角を作っている線が0に重なっている目盛を読む



手順1 分度器の中心を角の頂点に合わせる

手順2 0°の線を辺に合わせる

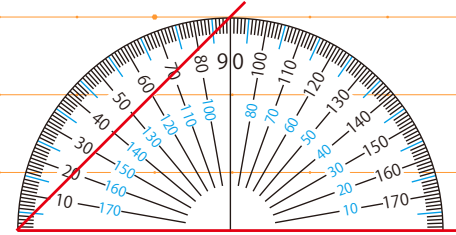
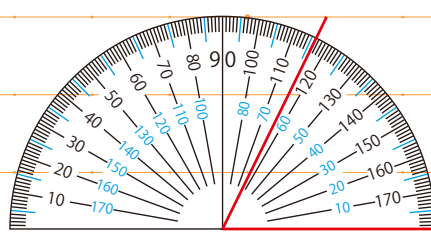
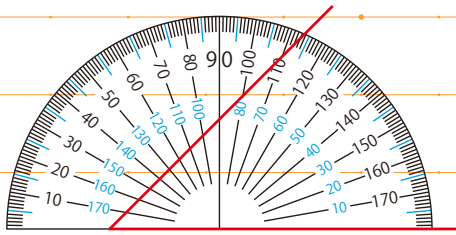
手順3 もうひとつの辺に重なった目盛の数字を読む

問1 分度器の正しい使い方を選び、その時の角度を求めましょう

ア

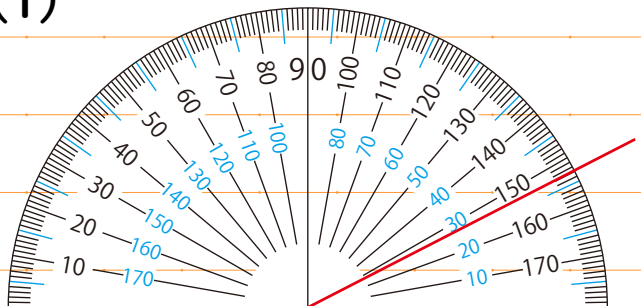
イ

ウ

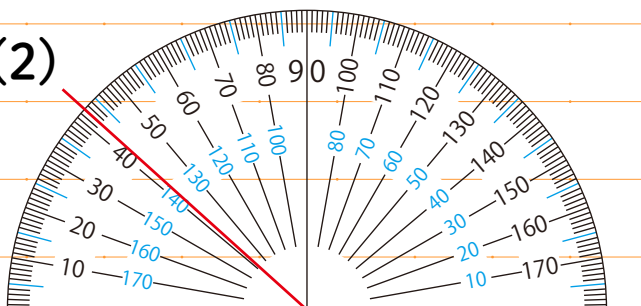


問2 次の角度を答えましょう

(1)



(2)



ふりかえり

おえた時間 :