

めあて

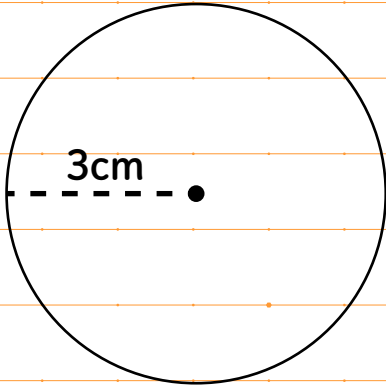
はじめた時間 :

☆円周 = 直径 × 3.14

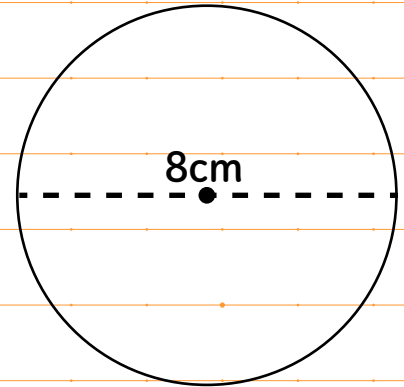
☆円の面積 = 半径 × 半径 × 3.14

問1 以下の図形の面積を求めましょう。また(1)と(2)は円周の長さを求めましょう。

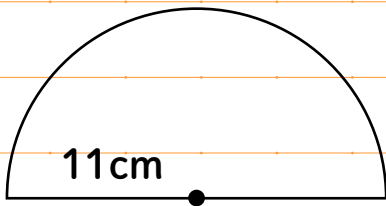
(1)



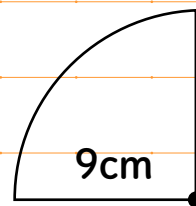
(2)



(3)



(4)



ふりかえり

おえた時間 :